
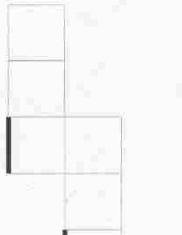
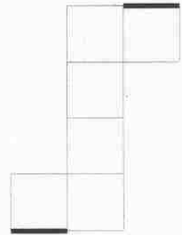
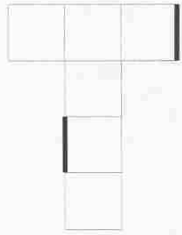
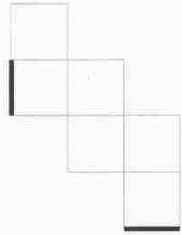
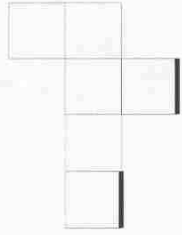
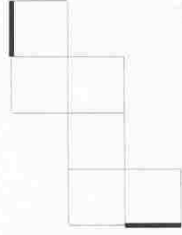
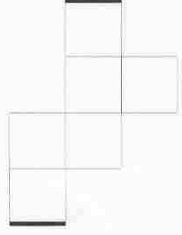


Τεστ Ικανότητας

Αντίληψη χώρου και σχημάτων
Άσκηση 11

Απαιτούμενος χρόνος: 5.5 λεπτά

Σε περίπτωση που διπλώσουμε τα παρακάτω σχήματα οι σκούρες μαύρες άκρες θα συναντηθούν;

1.		<input type="checkbox"/> Ναι <input type="checkbox"/> Όχι
2.		<input type="checkbox"/> Ναι <input type="checkbox"/> Όχι
3.		<input type="checkbox"/> Ναι <input type="checkbox"/> Όχι
4.		<input type="checkbox"/> Ναι <input type="checkbox"/> Όχι
5.		<input type="checkbox"/> Ναι <input type="checkbox"/> Όχι
6.		<input type="checkbox"/> Ναι <input type="checkbox"/> Όχι
7.		<input type="checkbox"/> Ναι <input type="checkbox"/> Όχι
8.		<input type="checkbox"/> Ναι <input type="checkbox"/> Όχι